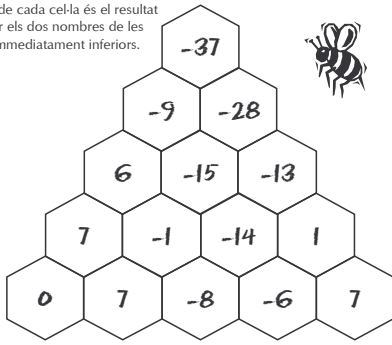


SOLUCIONS

1

Bresca entera

Completa aquesta bresca sabent que el nombre de cada cel·la és el resultat de sumar els dos nombres de les cel·les immediatament inferiors.

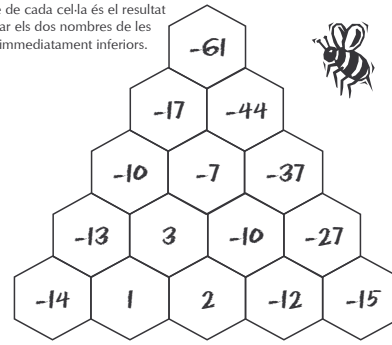


by Simpatia 109

2

Bresca entera

Completa aquesta bresca sabent que el nombre de cada cel·la és el resultat de sumar els dos nombres de les cel·les immediatament inferiors.

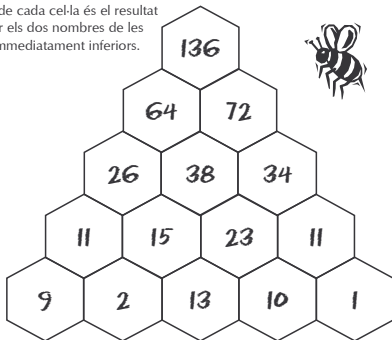


by Simpatia 109

3

Bresca entera

Completa aquesta bresca sabent que el nombre de cada cel·la és el resultat de sumar els dos nombres de les cel·les immediatament inferiors.

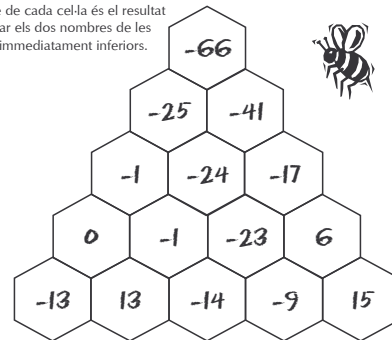


by Simpatia 109

4

Bresca entera

Completa aquesta bresca sabent que el nombre de cada cel·la és el resultat de sumar els dos nombres de les cel·les immediatament inferiors.

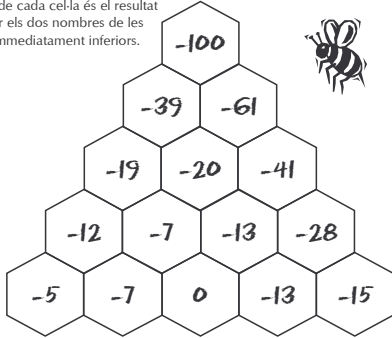


by Simpatia 109

5

Bresca entera

Completa aquesta bresca sabent que el nombre de cada cel·la és el resultat de sumar els dos nombres de les cel·les immediatament inferiors.




by Simpatia 109

6

Bresca entera

Completa aquesta bresca sabent que el nombre de cada cel·la és el resultat de sumar els dos nombres de les cel·les immediatament inferiors.



by Simpatia 109

7

Bresca entera

Completa aquesta bresca sabent que el nombre de cada cel·la és el resultat de sumar els dos nombres de les cel·les immediatament inferiors.

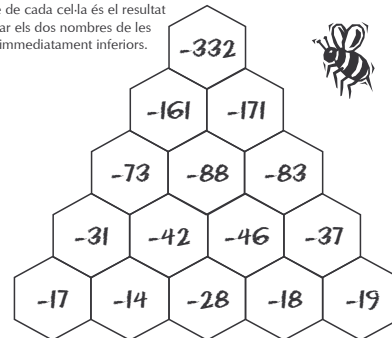


by Simpatia 109

8

Bresca entera

Completa aquesta bresca sabent que el nombre de cada cel·la és el resultat de sumar els dos nombres de les cel·les immediatament inferiors.



by Simpatia 109